

8. Határozd meg a piros számok alakí, helyi, és valódi értékeit!

szám	alakí érték	helyi érték	valódi érték
13 3			
2 9 9			
2 33			

9. egyes, tízes százás. Oldd meg a feladatokat!

12sz 7t 13e= _____

734= _____sz _____t _____e

31t 14sz 18e= _____

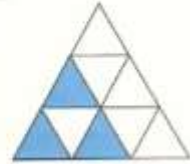
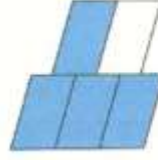

580= _____t _____e _____sz

19e 8sz 24t= _____


600= _____e _____t _____sz

10. Törtek

a) Hányad része színes? Írd le! Mindegyik ábra 1 egész.



b) Színezd ki az ábra megfelelő részét! Mindegyik ábra 1 egész.



2 ötöd

3 nyolcad

1 negyed

5 hatod

2 harmad

11. Szöveges feladat:

Géza bácsi kertjében 652 kg alma termett. 475 kg-ot eladott belőle, a többit pedig a pincébe tette télire. Hány kilogramm almát tett el télire?

